




1. Када се коловозом креће више организованих колона пешака, одстојање између појединих колона мора бити најмање:

- А) 10 м .....    3  
Б) 30 м .....     
Ц) 50 м .....

2. Организована колона пешака која се коловозом креће под контролом водича, мора се кретати:

- А) уз десну ивицу коловоза у смеру кретања .....   
Б) уз леву ивицу коловоза у сусрет возилима један иза другог .....    2  
Ц) уз леву ивицу коловоза у сусрет возилима један поред другог .....




3. У ситуацији на слици, возач бицикла у зеленој мајици (1) врши скретање улево и том приликом:

- А) дужан је да пропусти само возача бицикле у црвеној мајици (2) .....    4  
Б) дужан је да пропусти оба возача (2) (3) .....     
Ц) има првенство пролаза у раскрсници .....

4. У датој ситуацији првенство проласка на раскрсници регулисано је:

- А) семафорима .....    3  
Б) саобраћајним знаковима .....     
Ц) правилима саобраћаја .....



5. У ситуацији на слици возач бицикла се креће:

- А) прописно, само ако је старији од 12 година .....    4  
Б) прописно .....     
Ц) непрописно .....

6. Бицикличка стаза је пут намењен искључиво за кретање:

- А) бицикала и мопеда .....    4  
Б) бицикала .....     
Ц) бицикала, мопеда и лаких трицикала .....

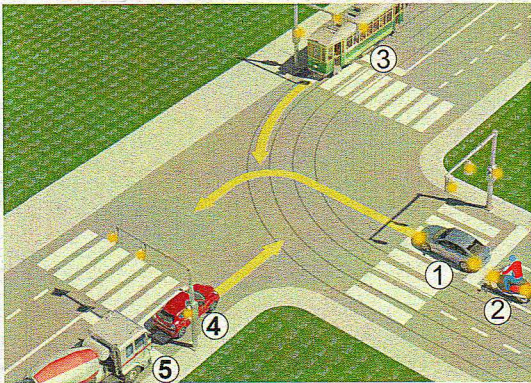
7. Мотопут је државни пут на коме се смеју кретати:

- А) лаки четвороцикли и радне машине .....    3  
Б) само тешки трицикли и тешки четвороцикли .....     
Ц) мотоцикли .....



8. Пешак који гура бицикл, дужан је да се креће:

- А) уз леву ивицу коловоза, у сусрет возилима .....
- Б) уз десну ивицу коловоза, у смеру кретања возила .....  ②
- Ц) средином коловозне траке .....




9. Возачи плавог путничког аутомобила (1) и мотоцикла (2) у ситуацији на слици:

- А) дужни су да пропусте само трамвај (3) .....
- Б) дужни су да пропусте трамвај (3), црвени путнички аутомобил (4) и теретно возило (5) .....  ③
- Ц) имају првенство пролаза у односу на сва возила .....

10. У ситуацији на слици шинско возило (3):

- А) је дужно да пропусти сва возила у раскрсници .....  ③
- Б) је дужно да пропусти само црвени путнички аутомобил (4) и теретно возило (5) .....
- Ц) има првенство проласка кроз раскрсницу .....




11. У ситуацији на слици возачи мотоцикла крећу се:

- А) непрописно .....
- Б) непрописно, на путу на коме је њихово кретање забрањено .....  ③
- Ц) прописно .....

12. Највећа дозвољена брзина мотоциклиста, на путу који видимо на слици је:

- А) 80 км/час .....
- Б) 100 км/час .....
- Ц) 130 км/час .....  ②



13. Возач трамваја (4) у ситуацији на слици:


- А) има првенство пролаза у односу на сва возила на раскрсници .....  ③
- Б) дужан је да пропусти само возило полиције (1) .....
- Ц) дужан је да пропусти и возило полиције (1) и два плава путничка аутомобила (5) (6) .....

14. На раскрсници на којој саобраћајни знак одступа од правила саобраћаја и ознака на коловозу, возачи морају поступити по:

- А) правилима саобраћаја .....  ③
- Б) саобраћајном знаку .....
- Ц) ознакама на коловозу .....


15. Возач путничког аутомобила у ситуацији на слици:

- А) је дужан да пропусти теретно возило, мотоцикл и бициклисте .....
- Б) је дужан да пропусти само теретно возило .....  ③
- Ц) има првенство проласка .....



16. Возач бицикла не сме да се креће бициклистичком стазом брзином већом од:

- А) 20 км/час .....  ③
- Б) 35 км/час .....
- Ц) 40 км/час .....




17. У ситуацији на слици првенство има возач бицикла:

- А) који је ближи раскрсници .....  **3**  
 Б) у жутој мајици (1) .....   
 Ц) у зеленој мајици (2) .....

18. У ситуацији на истој слици, првенство пролаза регулисано је:

- А) саобраћајним знаковима .....   
 Б) правилима саобраћаја .....  **3**  
 Ц) ознакама на коловозу .....

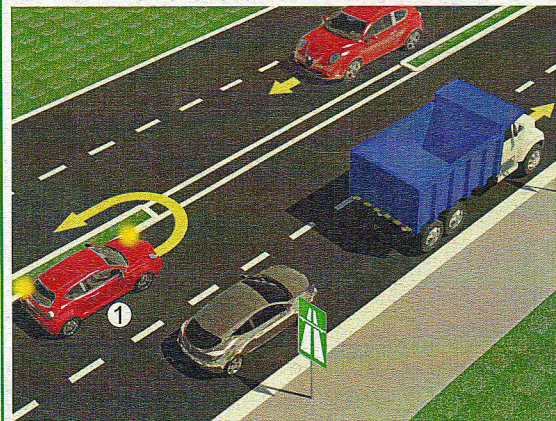


19. У ситуацији на слици раскрсницу ће као други проћи возило под бројем:

- А) 1 .....   
 Б) 3 .....  **3**  
 Ц) 4 .....

20. У ситуацији на слици раскрсницу ће као последње проћи возило под бројем:

- А) 2 .....   
 Б) 5 .....  **3**  
 Ц) 6 .....



21. Црвеном путничком аутомобилу (1) полукружно окретање у ситуацији на слици је:

- А) дозвољено правилима саобраћаја .....  **3**  
 Б) дозвољено тек када пропусти возила која се крећу коловозном траком на коју се укључује .....   
 Ц) забрањено .....

22. Пут који видимо на слици има:

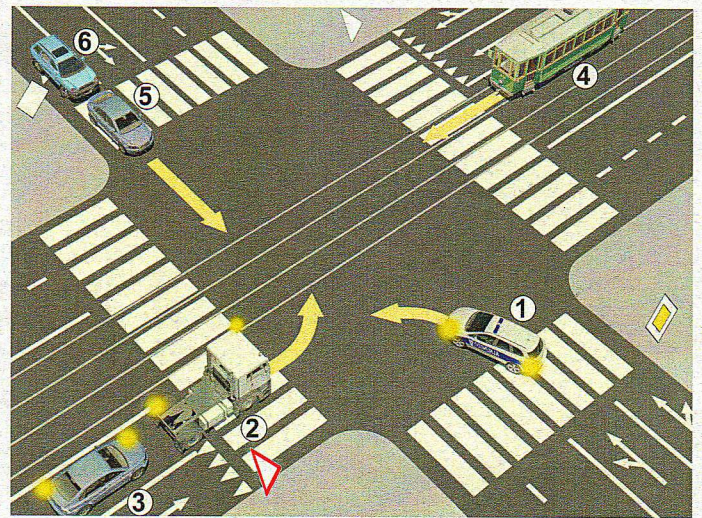

- А) једну коловозну траку .....   
 Б) две коловозне траке .....  **4**  
 Ц) четири коловозне траке .....



23. Према положају тела и руку полицијског службеника у ситуацији на слици, забрањен је пролаз возилима која му долазе:




- А) са леве стране .....  **3**  
 Б) са бочних страна .....   
 Ц) из правца у коме су окренута леђа односно прса полицијског службеника .....





24-25. У поља испод слике упиши бројеве који се налазе поред возила, по редоследу како пролазе кроз раскрсницу:


      5

      5

26. У квадратић испод сваког саобраћајног знака уписати редни број који је испред описа његовог значења:


 2

 2

 2

 2

 2

 2

 2

 2

 2

 2

1. коловоз односно део коловоза којим се возила могу кретати приликом обилажења пешачких острва, острва за усмеравање саобраћаја и других објеката на коловозу
2. близину места на коме се налази радионица за оправку возила
3. више од две узастопних кривина од којих је прва на лево
4. место на коме се налази прелаз бицикличке стазе преко коловоза
5. наилазак на део пута на коме се бициклисти често крећу, односно прелазе пут
6. обавештење возачу да на уском пролазу има првенство у односу на возила која долазе из супротног смера

7. обавештење учесника у саобраћају о једносмерном путу
8. саобраћајну траку којом је забрањено кретање аутобуса
9. смер у којем се возила морају кретати
10. место где се завршава зона устореног саобраћаја
11. пружање пута са првенством пролаза
12. близину дела пута на коме постоји опасност од стварања колоне возила
13. место где се завршава зона школе
14. место на коме се завршава саобраћајна трака намењена само за кретање возила јавног превоза путника

### НАШИ ПРИЈАТЕЉИ!

(Стартни број, име и презиме)

(Назив-разред/школа/екипа)

100-  Негаивних =  УКУПНО  
Поена Поена



CIP - Каталогизација  
у публикацији  
Народна библиотека  
Србије, Београд



ISBN:  
COBISS.SR-ID