

1. Возач бицикла у ситуацији на слици:
- а) дужан је да успори и пропусти само пешака који је већ скоро прешао улицу
 - б) дужан је да пропусти све пешаке на пешачком прелазу **3**
 - ц) има првенство пролаза у односу на пешаке..

2. Возач бицикла приликом скретања у ситуацији на слици:
- а) дужан је да одручи десну руку и обавести учеснике у саобраћају о својој намери
 - б) није дужан да одручи руку приликом скретања удесно **3**
 - ц) дужан је да одручи само леву руку приликом скретања улево.....



3. У ситуацији на слици, возач путничког аутомобила обилази аутобус:
- а) прописно **3**
 - б) непрописно
 - ц) на делу пута где је обилажење забрањено правилима саобраћаја

4. Највећа дозвољена брзина у насељеном месту, ако није другачије одређено саобраћајним знаком, је:
- а) 30 км/час
 - б) 50 км/час **3**
 - ц) 70 км/час

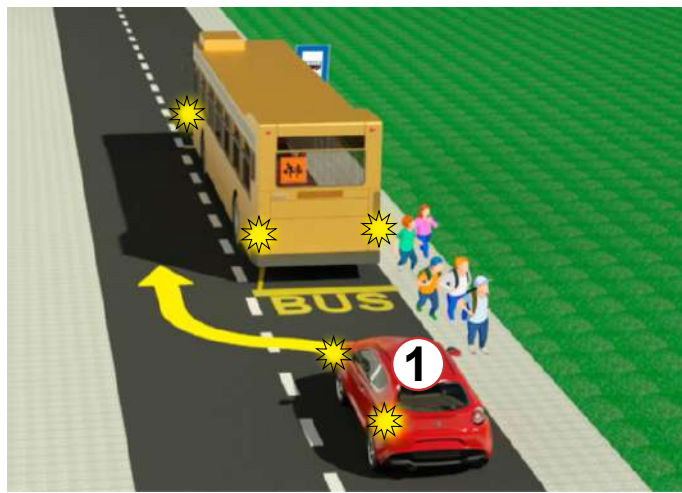


5. Првенство пролаза у ситуацији на слици има:
- а) возач бицикла у зеленој мајици (2) **3**
 - б) возач бицикла у жутој мајици (1)
 - ц) возач бицикла који се креће путем са првенством пролаза

6. У ситуацији на истој слици возачи морају да поступају по:
- а) саобраћајном знаку **3**
 - б) светлосном саобраћајном знаку
 - ц) правилима саобраћаја

7. На мопеду, мотоциклу, трициклу и четвороциклу не сме се превозити дете млађе од:
- а) 9 година
 - б) 12 година **3**
 - ц) 14 година

8. Пешак који гура бицикл, дужан је да се креће:
- а) уз леву ивицу коловоза, у сусрет возилима
 - б) уз десну ивицу коловоза, у смеру кретања возила **3**
 - ц) средином коловозне траке



9. У ситуацији на слици, возачу путничког аутомобила (1), обилажење аутобуса за превоз деце је:
- а) дозвољено, јер обилажење врши преко испрекидане уздужне линије 3
 - б) дозвољено само ако смањи брзину кретања свог возила и укључи леви показивач правца...
 - ц) није дозвољено

10. У ситуацији на истој слици, возач аутобуса за превоз деце, када стоји у стајалишту ради уласка и изласка деце:
- а) дужан је да увек укључи сва четири показивача правца 3
 - б) дужан је да укључи сва четири показивача правца само ван насеља
 - ц) није дужан да укључи сва четири показивача правца



11. У ситуацији на слици, црвени путнички аутомобил (1):
- а) је дужан да пропусти и пешака и мотоциклисту 3
 - б) је дужан да пропусти само пешака
 - ц) има првенство у односу на пешака и мотоциклисту

12. Возач мопеда креће се коловозом, у ситуацији на слици, прописно ако се креће:
- а) уз десну ивицу коловоза
 - б) левом страном саобраћајне траке, уз разделну линију 3
 - ц) средином коловоза



13. У ситуацији на слици путнички аутомобил (1):
- а) има првенство пролаза у односу на возила под пратњом (2) и пешаке 3
 - б) дужан је да пропусти само возила под пратњом (2)
 - ц) дужан је да пропусти и возила под пратњом (2) и пешаке

14. Пешаци који прелазе преко коловоза на обележеном пешачком прелазу, у ситуацији на слици:
- а) дужни су да пропусте сва возила у раскрсници 3
 - б) дужни су да пропусте само возила под пратњом (2)
 - ц) имају првенство пролаза у односу на сва возила у раскрсници



15. Возачу мотоцикла, у ситуацији на слици, скретање улево је:
- а) забрањено саобраћајним знаком 3
 - б) дозвољено, али мора претходно да пропусти аутобус
 - ц) дозвољено и има првенство пролаза у односу на аутобус

16. Допунска табла испод саобраћајних знакова у ситуацији на истој слици значи да је то:
- а) спајање главног и споредног пута 3
 - б) укрштање главног и споредног пута под правим углом
 - ц) пружање пута са правом првенства пролаза.



17. У ситуацији на слици, пешак је ступио на пешачки прелаз и започео прелазак преко коловоза, и том приликом:
- а) дужан је да се заустави и пропусти путнички аутомобил
 - б) нема првенство проласка у односу на путнички аутомобил 3
 - ц) има првенство проласка у односу на путнички аутомобил

18. Приликом преласка преко коловоза, пешак:
- а) сме да употребљава мобилни телефон
 - б) не сме да употребљава мобилни телефон, али сме да користи слушалице на ушима 3
 - ц) не сме да употребљава мобилни телефон, нити да користи слушалице на ушима



19. У ситуацији на слици, право проласка кроз раскрсницу има:
- а) црвени путнички аутомобил (2) 3
 - б) плави путнички аутомобил (1)
 - ц) ни једно ни друго возило

20. У ситуацији на истој слици, возачи су дужни да поступе по:
- а) ознакама на коловозу
 - б) семафору 3
 - ц) знацима које даје полицијски службеник



21. Возач возила полиције (1) у ситуацији на слици:
- а) дужан је да пропусти само возило које се креће путем са првенством пролаза и долази му са десне стране
 - б) дужан је да пропусти сва возила која се крећу путем са првенством пролаза 3
 - ц) има првенство пролаза на раскрсници

22. За возило полиције (1) у ситуацији на истој слици, одредба закона о ограничењу брзине се:
- а) примењује
 - б) не примењује 3
 - ц) примењује само у насељу



23. Знак који даје полицијски службеник приказан на слици означава да:

- а) су сви возачи који наилазе на раскрсницу у обавези да се зауставе
- б) је возач у чијем смеру се даје тај знак обавезан да заустави возило 4
- ц) је возач у чијем смеру се даје тај знак обавезан да смањи брзину кретања возила

24.-25. У поља испод слике упиши бројеве који се налазе поред возила, по редоследу како пролазе раскрсницу:




5




5

26. У квадратић испод сваког саобраћајног знака уписати редни број који је испред описа његовог значења



2



2



2



2



2



2



2



2



2



2

1. Пешачка зона
2. Обавезно заустављање
3. Забрана саобраћаја за бициклисте
4. Пешачка стаза
5. Забрана саобраћаја свим возилима у оба смера
6. Зона школе

7. Завршетак мотопута
8. Забрана саобраћаја за пешаке
9. Завршетак аутопута
10. Уступање првенства пролаза
11. Најмања дозвољена брзина
12. Сужење пута са леве стране

НАШИ ПРИЈАТЕЉИ!

(Стартни број) _____

(Назив-разред/школа/екипа) _____

100- =

Негативних Поена УКУПНО Поена



Република Србија
МИНИСТАРСТВО ПРОСВЕТЕ, НАУКЕ
И ТЕХНОЛОШКОГ РАЗВОЈА



Република Србија
МИНИСТАРСТВО УНУТРАШЊИХ ПОСЛОВА

